



PREFEITURA DO MUNICÍPIO DE ARAUCÁRIA

Comissão Especial Concurso Público

Concurso Público Edital 029/2017 - SMGP

Prova Objetiva – 10/12/2017



INSCRIÇÃO	TURMA	NOME DO CANDIDATO
ASSINO DECLARANDO QUE LI E COMPREENDI AS INSTRUÇÕES ABAIXO:		ORDEM

105 – Profissional do Magistério – Docência I

INSTRUÇÕES

1. Confira, acima, o seu número de inscrição, turma e nome. Assine no local indicado.
2. Aguarde autorização para abrir o caderno de prova. Antes de iniciar a resolução das questões, confira a numeração de todas as páginas.
3. A prova é composta de 40 questões objetivas.
4. Nesta prova, as questões objetivas são de múltipla escolha, com 5 (cinco) alternativas cada uma, sempre na sequência **a, b, c, d, e**, das quais somente uma deve ser assinalada.
5. A interpretação das questões é parte do processo de avaliação, não sendo permitidas perguntas aos aplicadores de prova.
6. Ao receber o cartão-resposta, examine-os e verifique se o nome impresso neles corresponde ao seu. Caso haja qualquer irregularidade, comunique-a imediatamente ao aplicador de prova.
7. O cartão-resposta deverá ser preenchido com caneta esferográfica preta, tendo-se o cuidado de não ultrapassar o limite do espaço para cada marcação.
8. O tempo de resolução das questões, incluindo o tempo para preenchimento do cartão-resposta, é de 4 (quatro) horas.
9. Não será permitido ao candidato:
 - a) Manter em seu poder relógios e aparelhos eletrônicos ou qualquer objeto identificável pelo detector de metais. Tais aparelhos deverão ser desligados e colocados **OBRIGATORIAMENTE** dentro do saco plástico, que deverá ser acomodado embaixo da carteira ou no chão. É vedado também o porte de armas.
 - b) Usar bonés, gorros, chapéus ou quaisquer outros acessórios que cubram as orelhas.
 - c) Usar fone ou qualquer outro dispositivo no ouvido. O uso de tais dispositivos somente será permitido quando indicado para o atendimento especial.
 - d) Levar líquidos, exceto se a garrafa for transparente e sem rótulo.
 - e) Comunicar-se com outro candidato, usar calculadora e dispositivos similares, livros, anotações, régua de cálculo, impressos ou qualquer outro material de consulta.
 - f) Portar carteira de documentos/dinheiro ou similares.
 - g) Usar óculos escuros, ressalvados os de grau, quando expressamente por recomendação médica, devendo o candidato, então, respeitar o subitem 6.6.5 do Edital.
 - h) Emprestar materiais para realização das provas.**Caso alguma dessas exigências seja descumprida, o candidato será excluído do processo.**
10. Ao concluir a prova, permaneça em seu lugar e comunique ao aplicador de prova. Aguarde autorização para entregar o caderno de prova, o cartão-resposta e a ficha de identificação.
11. Se desejar, anote as respostas no quadro abaixo, recorte na linha indicada e leve-o consigo.

DURAÇÃO DESTA PROVA: 4 horas.

✂

RESPOSTAS							
01 -	06 -	11 -	16 -	21 -	26 -	31 -	36 -
02 -	07 -	12 -	17 -	22 -	27 -	32 -	37 -
03 -	08 -	13 -	18 -	23 -	28 -	33 -	38 -
04 -	09 -	14 -	19 -	24 -	29 -	34 -	39 -
05 -	10 -	15 -	20 -	25 -	30 -	35 -	40 -

Língua Portuguesa, Raciocínio Lógico, Legislação e
Conhecimentos Específicos

LÍNGUA PORTUGUESA

Leia o texto a seguir para responder às questões 01 a 03.

Estaremos criando uma sociedade de jovens de pais ausentes, distraídos demais com a Internet, à qual Leonardo Calembro, de 41 anos, pai de um dos adolescentes mortos a tiros no colégio de Goiânia por um colega de classe, chamou, enquanto enterrava o filho, de “órfãos de pais vivos”, de pais já mortos para eles, porque ignoram seus problemas?

O eco da tragédia de Goiânia, que se revela a cada dia com informações mais alarmantes sobre a personalidade complexa do jovem de 14 anos que disparou na sala de aula contra os colegas, levará tempo para se dissipar, já que despertou o alarme em não poucas famílias. É como se, de repente, nos _____ se realmente _____ nossos filhos e o que estão vivendo sem que _____.[...]

Enquanto escrevo esta coluna, o jornal *Folha de S. Paulo* publica o que chama de “o mapa da morte”, com os dados de homicídios no Brasil em 2016, com um aumento de quase 4% em relação ao ano anterior. No total foram 61.689 homicídios, o que equivale a sete a cada hora, algo que supera muitas guerras juntas. É como se o Brasil sofresse a cada ano a explosão de uma bomba atômica. A de Hiroshima matou pouco mais do que se mata no Brasil todos os anos.

Algo que agrava esse mapa da morte é que metade desses homicídios é de jovens, o que significa que mais de 30.000 pais e mães tenham que enterrar filhos, algo que fere as leis da natureza. O normal é que os filhos enterrem os pais. A matança desses milhares de jovens conduz à aberração de que os pais se sintam órfãos dos filhos, sem poder desfrutar deles em vida.

Permitir ou não que as crianças e jovens vejam todo o tipo de violência virtual nos jogos, nos filmes, na televisão e nos celulares? Quando eu era estudante de psicologia em Roma, tive uma discussão com um de meus professores que defendia que as crianças deviam familiarizar-se com a violência para poder administrá-la quando adultas. É o que pensam ainda hoje até mesmo ilustres sociólogos. Para mim, porém, a vida real de hoje já oferece doses de sobra de violência, desde que se nasce, dentro e fora das casas, para que seja preciso acrescentar-lhe a violência virtual.[...]

Jovens órfãos de pais vivos, pais que se veem sujeitos a enterrar filhos em flor e, se fosse pouco, desde 1980 até hoje segue aumentando no Brasil o número de suicídios juvenis, segundo o IPEA. É o ápice da tragédia da sociedade. [...]

Mais do que saber se têm mais votos Lula, Doria ou Bolsonaro, os institutos de pesquisa deveriam se interessar em descobrir por que a juventude de uma sociedade como a do Brasil, que sempre teve como vocação a felicidade e os encontros festivos, se vê de repente representada por um triplo drama de orfandade. Quem salvará o Brasil não será, de fato, nenhum caudilho, herói ou messias, mas a tomada de consciência da sociedade de que as famílias precisam apostar para que seus filhos voltem “a ser sonhadores”, como pedia o jovem de outra escola em Olinda.

Quando um jovem pede aos pais que lhe dediquem mais tempo que a seu celular, ele lhes está suplicando mais afeto, ou está tentando contar-lhes que algo se está rompendo dentro dele. Quando lhe dizem: “depois, agora estou ocupado”, esse “depois” poderia ser tragicamente tarde.

(Disponível em: <https://brasil.elpais.com/brasil/2017/10/31/opinion/1509452129_128889.html>. Acesso em 06 nov. 2017)

01 - Assinale a alternativa que preenche corretamente as lacunas do texto acima.

- a) perguntassem – conhecemos – saberemos.
- ▶ b) perguntássemos – conhecemos – saibamos.
- c) perguntássemos – conhecêssemos – saibamos.
- d) perguntassem – conhecêssemos – soubérmos.
- e) perguntamos – conhecíamos – sabemos.

02 - Sobre o texto, considere as seguintes afirmativas:

1. O texto tematiza o excesso de violência no país.
2. O autor utiliza a tragédia ocorrida na escola de Goiânia como um exemplo de como a falta de participação dos pais na vida dos filhos pode levar a situações de tragédia.
3. O autor critica a escassez de pesquisas sobre o comportamento e a saúde mental de nossos jovens.
4. A expressão “órfãos de pais vivos”, apresentada no texto, faz referência a crianças com pais mortos no sentido metafórico.

Assinale a alternativa correta.

- a) Somente as afirmativas 1 e 3 são verdadeiras.
- b) Somente as afirmativas 2 e 4 são verdadeiras.
- c) Somente as afirmativas 1, 3 e 4 são verdadeiras.
- ▶ d) Somente as afirmativas 2, 3 e 4 são verdadeiras.
- e) As afirmativas 1, 2, 3 e 4 são verdadeiras.

03 - Na frase “O eco da tragédia de Goiânia, que se revela a cada dia com informações mais alarmantes sobre a personalidade complexa do jovem de 14 anos que disparou na sala de aula contra os colegas, levará tempo para se dissipar, já que despertou o alarme em não poucas famílias”, o termo destacado estabelece, entre as ideias, uma relação:

- a) de alternância.
- b) condicional.
- c) aditiva.
- d) temporal.
- ▶ e) causal.

04 - O trecho a seguir é o início de um texto publicado no site da revista *Ciência Hoje* (<http://www.cienciahoje.org.br/noticia/v/ler/id/4893/n/pisando_em..._copos>).

Mais uma vez, vem do lixo a produção de objetos que ajudam a melhorar a vida de moradores de comunidades carentes. Ao juntar copos de café descartados e cascas de coco de babaçu, pesquisadores da Universidade Federal do Pará (UFPA) transformaram esses rejeitos em lajotas tão resistentes e belas quanto as disponíveis no mercado, de modo a forrar o chão de residências populares.

Numere os parênteses a seguir, estabelecendo a ordem textual lógica das ideias que dão continuidade ao texto acima.

- () O produto, batizado de ecopiso e com patente já registrada, será fabricado e aplicado agora por pescadores de Colares, município do nordeste paraense.
- () Depois de analisar os rejeitos, ela concluiu que as cascas do coco, associadas a copos de café descartáveis, formavam uma mistura muito consistente e ideal para a fabricação de pisos: o plástico (poliestireno) e a fibra do babaçu juntos conferem dureza e resistência às lajotas comparáveis às encontradas no mercado, mas a um custo de produção muito inferior.
- () Além disso, o material é menos pesado e confere maior conforto térmico.
- () Buscando uma alternativa barata para cobrir o chão batido de casas de mulheres que trabalham como abridoras de coco de babaçu, no Maranhão, a engenheira mecânica Poliana Borges Bringel examinou o lixo dessa comunidade durante sua pesquisa de mestrado na UFPA, em 2007.

Assinale a alternativa que apresenta a numeração correta dos parênteses, de cima para baixo.

- ▶ a) 4 – 2 – 3 – 1.
- b) 1 – 4 – 3 – 2.
- c) 3 – 4 – 2 – 1.
- d) 4 – 3 – 1 – 2.
- e) 1 – 3 – 2 – 4.

05 - No trecho “Além disso, o material é menos pesado e confere maior conforto térmico”, retirado do texto da questão 04, a palavra destacada faz referência:

- a) ao plástico.
- b) ao copo de café.
- c) à casca de coco.
- d) à fibra do babaçu.
- ▶ e) ao ecopiso.

06 - Considere o seguinte trecho adaptado da revista *Superinteressante*:

_____ com uma pesquisa publicada pela revista americana *Reader's Digest*, tomar café em jejum pode prejudicar o sistema digestivo, _____ o café, quando entra em contato com o estômago, _____ produz ácidos estomacais _____ podem danificar as paredes do próprio órgão, causa indigestão e azia.

(Adaptado de: <<https://super.abril.com.br/comportamento/por-que-voce-nunca-deve-beber-cafe-de-barriga-vazia/>>. Acesso em 13, nov. 2017)

Assinale a alternativa que preenche corretamente as lacunas:

- a) De acordo – onde – porque – que.
- ▶ b) De acordo – visto que – onde – que.
- c) Consoante – já que – onde – e.
- d) De acordo – onde – que – que.
- e) Consoante – devido a – em que – e.

Considere o seguinte trecho para responder às questões 07 e 08.

Meditação, na tradição budista, é um conjunto de técnicas capazes de ajudar ___ estabilizar ___ mente, levando ___ calma mental e, conseqüentemente, ___ promoção da sabedoria e da bondade.

(Adaptado de: <<http://forbes.uol.com.br/negocios/2017/10/raia-drogasil-tem-lucro-de-r-1365-mi-no-3o-tri/>>, acesso em 05, nov. 2017)

07 - Assinale a alternativa que preenche corretamente as lacunas.

- a) a – à – a – à.
- b) à – a – a – a.
- ▶ c) a – a – à – à.
- d) a – à – a – a.
- e) à – a – à – a.

08 - Na frase “É uma prática que exige muito foco e concentração, assim como a habilidade de se ‘desligar’ do mundo exterior”, a expressão destacada demonstra uma relação entre as informações de:

- a) conclusão.
- b) oposição.
- ▶ c) adição.
- d) proporção.
- e) explicação.

09 - Assinale a alternativa que apresenta a sequência ao trecho anterior pontuada corretamente.

- a) O mesmo acontece com o *mindfulness* que, embora menos conhecido, tem ganho cada vez mais espaço nas agendas de grandes líderes, principalmente, por garantir, maior foco, eficiência e produtividade.
- b) O mesmo acontece com o *mindfulness* que embora menos conhecido tem ganho cada vez mais espaço nas agendas de grandes líderes principalmente, por garantir maior foco, eficiência e produtividade.
- c) O mesmo acontece, com o *mindfulness* que, embora menos conhecido tem ganho, cada vez mais, espaço nas agendas de grandes líderes, principalmente por garantir maior foco, eficiência, e produtividade.
- ▶ d) O mesmo acontece com o *mindfulness*, que, embora menos conhecido, tem ganho cada vez mais espaço nas agendas de grandes líderes, principalmente por garantir maior foco, eficiência e produtividade.
- e) O mesmo, acontece com o *mindfulness* que, embora, menos conhecido, tem ganho, cada vez mais espaço nas agendas de grandes líderes, principalmente por: garantir maior foco, eficiência, e produtividade.

10 - Sobre a charge ao lado, considere as seguintes afirmativas:

1. A charge satiriza a atual situação econômica do país por meio dos exercícios escolares de conjugação de verbos.
2. Se o verbo assistir estivesse conjugado com o pronome “tu”, teria a forma “assiste”.
3. O pronome “ele”, utilizado com o verbo aumentar, faz referência ao governo.
4. Se a conjugação se desse no futuro simples, teríamos a conjugação “eles reprimiram”.

Assinale a alternativa correta.

- ▶ a) Somente as afirmativas 1 e 3 são verdadeiras.
- b) Somente as afirmativas 2 e 3 são verdadeiras.
- c) Somente as afirmativas 2 e 4 são verdadeiras.
- d) Somente as afirmativas 1, 3 e 4 são verdadeiras.
- e) As afirmativas 1, 2, 3 e 4 são verdadeiras.



RACIOCÍNIO LÓGICO

***11 - Considere a seguinte sequência de números:**

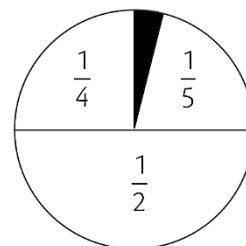
3, 4, 6, 10, 18, ...

Iniciando com 3, qual das regras a seguir produz cada um dos termos seguintes dessa sequência?

- a) Some 1 ao termo anterior.
- b) Subtraia 2 do termo anterior e então multiplique por 4.
- c) Subtraia 1 do termo anterior e então multiplique por 2.
- d) Multiplique o termo anterior por 2 e então subtraia 2.
- e) Multiplique o termo anterior por 3 e então subtraia 5.

12 - Na figura, a região pintada de preto representa que fração do círculo?

- a) 1/9.
- b) 2/9.
- c) 1/16.
- d) 2/10.
- ▶ e) 1/20.



13 - Por noite, um hotel cobra R\$ 100,00 por um quarto para uma pessoa, e 20% desse valor para cada pessoa a mais utilizando o mesmo quarto. Uma família utilizou dois quartos desse hotel, por uma noite, pagando um total de R\$ 300,00. Quantas pessoas havia nessa família?

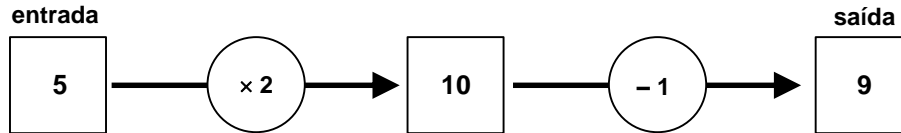
- a) 4 pessoas.
- b) 5 pessoas.
- c) 6 pessoas.
- ▶ d) 7 pessoas.
- e) 8 pessoas.

* Questão anulada, seu valor será distribuído entre as questões válidas por área de conhecimento.

14 - Numa pesquisa sobre o consumo de dois sabores de suco, 200 pessoas foram entrevistadas. Dessas, 144 disseram consumir suco de laranja, 136 disseram consumir suco de uva e 18 disseram não consumir nenhum desses sabores de suco. De acordo com essa pesquisa, quantos dos entrevistados consomem os dois sabores de suco (laranja e uva)?

- ▶ a) 98.
- b) 90.
- c) 80.
- d) 78.
- e) 70.

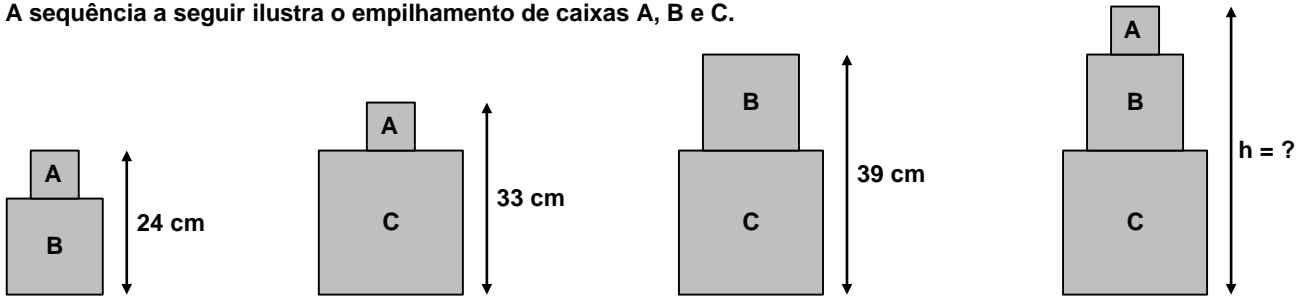
15 - Colocando-se um número na entrada da máquina numérica a seguir, é realizada uma sequência de operações. Por exemplo, ao colocar 5 na entrada, obteremos 9 na saída, como indicado:



Se, na saída, obteve-se um número x , qual das expressões a seguir representa o número que foi colocado na entrada da máquina?

- a) $2 \cdot x - 1$
- ▶ b) $\frac{x + 1}{2}$
- c) $2 \cdot x + 1$
- d) $\frac{x}{2} + 1$
- e) $2 \cdot (x - 1)$

16 - A sequência a seguir ilustra o empilhamento de caixas A, B e C.



Nessas condições, a altura h , da última pilha, é:

- a) 52 cm.
- b) 50 cm.
- ▶ c) 48 cm.
- d) 46 cm.
- e) 44 cm.

17 - A seguir, temos parte de uma tabela numérica:

Linha 1	4	5	6	7
2	8	9	10	11
3	12	13	14	15
4	16	17	18	19
5	20	21	22	23

Sabendo que a tabela continua, em qual linha deverá aparecer o número 66?

- ▶ a) Linha 16.
- b) Linha 15.
- c) Linha 14.
- d) Linha 13.
- e) Linha 12.

18 - Na sequência 3, 7, 11, 15, 19, ... os números aumentam de quatro em quatro. Na sequência 1, 8, 15, 22, 29, ... por sua vez, os números aumentam de sete em sete. Observe que o número 15 aparece em ambas as sequências. Escrevendo os demais valores dessas sequências, qual será o próximo número a aparecer em ambas?

- a) 31.
- b) 36.
- c) 39.
- d) 41.
- ▶e) 43.

19 - Numa escola, todos os estudantes que participam do time de basquete fazem Educação Física com o professor Silas. Com base nisso, qual das seguintes afirmações é verdadeira?

- a) Se um estudante faz Educação Física com o professor Silas, então ele não participa do time de basquete.
- b) Se um estudante não participa do time de basquete, então ele não faz Educação Física com o professor Silas.
- ▶c) Se um estudante não faz Educação Física com o professor Silas, então ele não participa do time de basquete.
- d) Se um estudante faz Educação Física com o professor Silas, então ele participa do time de basquete.
- e) Se um estudante não faz Educação Física com o professor Silas, então ele participa do time de basquete.

20 - Com base nas premissas do argumento

- Se chover então entrará água na sala.
- Se a janela estiver fechada então não entrará água na sala.
- Se não chover então a cortina estará aberta.
- A cortina está fechada.

pode-se concluir que:

- a) não choveu.
- ▶b) a janela está aberta.
- c) não entrou água na sala.
- d) a janela está fechada.
- e) a cortina é azul.

LEGISLAÇÃO

21 - Sobre o processo administrativo disciplinar e aspectos relacionados, no âmbito no Município de Araucária, é correto afirmar:

- a) O Processo Administrativo Disciplinar não deverá exceder a 90 (noventa) dias, contados da data de publicação do ato que constituir a Comissão, podendo esse prazo ser prorrogado por no máximo duas vezes, por igual prazo, a critério da comissão mediante relatório motivado.
- b) Na hipótese de o relatório de Sindicância concluir que a infração está capitulada como ilícito penal, o Prefeito Municipal determinará o encaminhamento da cópia dos autos ao Ministério Público Estadual para análise e demais providências pertinentes, independentemente da imediata instauração do Processo Administrativo Disciplinar.
- c) O depoimento das testemunhas será prestado oralmente e reduzido a termo, podendo também a testemunha trazê-lo por escrito.
- ▶d) A decisão do Processo Administrativo Disciplinar será proferida pelo Prefeito Municipal no prazo de 20 (vinte) dias contados do recebimento do processo.
- e) Se extinta a punibilidade pela prescrição, não poderá haver registro do fato nos assentamentos individuais do servidor.

22 - Sobre a posse e o exercício em cargo público no Município de Araucária, assinale a alternativa correta.

- a) A posse dar-se-á automaticamente após transcorrido o prazo máximo de trinta dias contados da data de publicação do ato de nomeação.
- ▶b) É de um dia útil o prazo para o servidor empossado em cargo público entrar em exercício contado da data da posse.
- c) No ato da posse, não é necessário apresentar declaração de bens ou valores, por se entender que haveria violação de sigilo.
- d) No caso de função de confiança, o início do exercício será aquele da data de assinatura do respectivo termo.
- e) Deverá ocorrer inspeção médica oficial logo após a posse e antes do exercício.

23 - Sobre as indenizações e outras vantagens do servidor público municipal de Araucária, assinale a alternativa correta.

- ▶a) O servidor que receber diária e não se afastar da sede, por qualquer motivo, fica obrigado a restituí-la integralmente.
- b) Os valores das indenizações, assim como as condições para sua concessão, serão estabelecidos por lei municipal.
- c) Constituem indenizações ao servidor diárias, transporte e adicional noturno.
- d) As indenizações se incorporam ao vencimento, inclusive para fins de aposentadoria.
- e) As vantagens pecuniárias podem ser acumuladas para efeito de concessão de outros acréscimos pecuniários ulteriores.

24 - A movimentação do servidor de uma referência para outra subsequente, no mesmo nível, é denominada:

- ▶ a) progressão horizontal.
- b) promoção vertical.
- c) progressão por certificação.
- d) reversão.
- e) reenquadramento.

25 - Sobre a carreira, a jornada de trabalho e outros aspectos relacionados ao integrante do Quadro Próprio do Magistério Público Municipal, assinale a alternativa INCORRETA.

- a) A jornada de trabalho é de 20 (vinte) horas semanais.
- ▶ b) Ao Profissional do Magistério são assegurados 30 (trinta) dias de férias anuais e 30 (trinta) dias de recesso distribuídos durante o ano letivo, conforme calendário escolar.
- c) Da 5ª à 8ª séries e do 6º ao 9º anos do Ensino Fundamental, as aulas serão de 50 (cinquenta) minutos cada.
- d) O percentual de hora-atividade em docência é de 20% (vinte por cento) da jornada de trabalho.
- e) No mês de gozo de férias, ao profissional do magistério será pago o adicional de 1/3 (um terço) da remuneração correspondente a 30 (trinta) dias.

CONHECIMENTOS ESPECÍFICOS

26 - De acordo com a Lei de Diretrizes e Bases da Educação Nacional 9.394/96, a Educação Básica obrigatória e gratuita é composta por:

- a) Educação Infantil, Ensino Fundamental e Ensino Médio.
- b) Ensino Fundamental e Ensino Médio.
- c) Educação Infantil e Ensino Fundamental.
- d) Educação Infantil e Anos Iniciais do Ensino Fundamental.
- ▶ e) Pré-escola, Ensino Fundamental e Ensino Médio.

27 - De acordo com o Estatuto da Criança e do Adolescente, a quem cabe, nos estabelecimentos de ensino, comunicar ao Conselho Tutelar os casos de maus tratos?

- a) Aos professores.
- b) Aos membros do Conselho Escolar.
- ▶ c) Aos dirigentes.
- d) A uma comissão especial que tratará do caso.
- e) Ao assistente social.

28 - A meta 12 do Plano Municipal de Educação de Araucária é relativa a “Efetivar a Educação Básica nas Comunidades do Campo”. É uma estratégia que compõe essa meta:

- a) universalizar a oferta da Educação Infantil no campo para a criança de 0 a 3 anos nas suas comunidades, garantindo às famílias o direito à opção do atendimento em período integral ou parcial.
- b) assegurar que o tempo máximo de permanência no transporte escolar no campo seja de 60 minutos para as crianças da Educação Infantil e de 120 minutos para os estudantes do Ensino Fundamental.
- ▶ c) democratizar e universalizar a oferta dos níveis, etapas e modalidades do ensino para a Educação do Campo nas suas comunidades, cabendo ao município articular com o Estado a oferta do Ensino Médio.
- d) definir currículo específico para as diferentes etapas e modalidades da Educação do Campo.
- e) criar núcleos que congreguem as escolas do campo com baixa demanda, buscando uma oferta mais equânime da Educação Básica.

29 - A respeito do Plano Nacional de Educação, considere as seguintes metas:

1. Alfabetizar todas as crianças, no máximo, até o final do primeiro ano do Ensino Fundamental.
2. Formar, em nível de pós-graduação, 50% dos professores da Educação Básica, até o último ano de vigência deste PNE.
3. Oferecer educação em tempo integral em, no mínimo, 50% das escolas públicas, de forma a atender, pelo menos, 25% dos alunos e alunas da Educação Básica.
4. Ampliar o investimento público em educação pública, de forma a atingir, no mínimo, o patamar de 7% do Produto Interno Bruto (PIB) do País no quinto ano de vigência desta Lei e, no mínimo, o equivalente a 10% do PIB ao final do decênio.

São metas presentes no Plano Nacional de Educação:

- a) 1 e 3 apenas.
- b) 1 e 4 apenas.
- c) 2 e 3 apenas.
- ▶ d) 2, 3 e 4 apenas.
- e) 1, 2, 3 e 4.

30 - Assinale a alternativa que apresenta dois tipos de conceitos definidos por Vygotsky (1982).

- a) Os superiores, vinculados a capacidades psíquicas cognitivas, e os inferiores, vinculados a situações espontâneas.
- b) Os centrais, que estão na base da definição dos currículos, e os transversais, que podem ser trabalhados por projetos.
- c) Os escolares, aqueles que cabe à escola ensinar, e os práticos, aprendidos no dia a dia das crianças.
- d) Os naturais, que nascem com a criança, e os sociais, que são desenvolvidos a partir das interações sociais que desenvolve.
- ▶ e) Os científicos, formados pela aprendizagem sistematizada, e os cotidianos, formulados no decorrer da atividade prática.

31 - As Diretrizes da Educação Básica Nacional abordam a base nacional comum. Acerca desse assunto, assinale a alternativa correta.

- a) A base nacional comum e a parte diversificada constituem dois blocos distintos, com disciplinas específicas para cada uma dessas partes.
- ▶ b) Integram a base nacional comum a Língua Portuguesa; a Matemática; o conhecimento do mundo físico, natural e da realidade social e política; a Arte; a Educação Física; o Ensino Religioso.
- c) A LDB inclui o estudo de, pelo menos, duas línguas estrangeiras modernas na parte diversificada, cabendo sua escolha à comunidade escolar.
- d) A parte diversificada deve compor 20% do currículo, devendo abarcar obrigatoriamente as características locais e regionais do contexto onde se encontra a escola.
- e) A base nacional comum constitui-se de conhecimentos que conformam o currículo, de modo que a sua delimitação define o currículo da Educação Básica brasileira.

32 - Na Educação Infantil, a avaliação é um instrumento de reflexão sobre a prática pedagógica na busca de melhores caminhos para orientar as aprendizagens das crianças. Sobre avaliação, assinale a alternativa correta.

- a) A avaliação das crianças de 0 a 5 anos será realizada duas vezes ao ano, permitindo a revisão das propostas no meio do ano letivo e encaminhamentos para a continuidade do percurso educativo das crianças.
- b) A avaliação é composta por duas dimensões com igual importância para o acompanhamento das aprendizagens: a quantitativa e a qualitativa.
- c) A avaliação na Educação Infantil será registrada através de Parecer Descritivo nos quatro bimestres, resultando em um único registro final que acompanha a criança.
- ▶ d) A avaliação deve se constituir com base na observação sistemática, crítica e criativa do comportamento de cada criança, de grupos de crianças e das brincadeiras e interações entre as crianças no cotidiano.
- e) A avaliação deve focar-se no desenvolvimento efetivo da criança, buscando verificar a aprendizagem, como aponta Luckesi, a partir dos mínimos possíveis.

33 - Quanto às definições presentes nas Diretrizes Curriculares Nacionais para o Ensino Fundamental de 9 anos, assinale a alternativa correta.

- a) É obrigatória a matrícula no Ensino Fundamental de crianças com seis anos completos ou a completar até o dia 31 de dezembro do ano em que ocorrer a matrícula, nos termos da Lei e das normas nacionais vigentes.
- b) O Ensino Religioso, componente obrigatório do currículo e de matrícula do aluno, é parte integrante da formação básica do cidadão e constitui componente curricular dos horários normais das escolas públicas de Ensino Fundamental.
- c) O princípio da continuidade pode ser traduzido como “promoção automática” de alunos de um ano, série ou ciclo para o seguinte, para promover o combate à repetência.
- ▶ d) A história e as culturas indígena e afro-brasileira, devem estar presentes, obrigatoriamente, nos conteúdos desenvolvidos no âmbito de todo o currículo escolar.
- e) A oferta de cursos de Educação de Jovens e Adultos, nos anos iniciais do Ensino Fundamental, poderá ser presencial ou a distância, e a sua duração ficará a critério de cada sistema de ensino.

34 - Com relação à Pedagogia Histórico-Crítica, identifique como verdadeiras (V) ou falsas (F) as seguintes afirmativas:

- () Compreende que a prática pedagógica situa-se no âmbito da violência simbólica, da inculcação ideológica e da reprodução das relações de produção.
- () Compreende a educação escolar tal como ela se manifesta no presente, mas entendida essa manifestação presente como resultado de um longo processo de transformação histórica.
- () Entende que a tendência a secundarizar a escola traduz o caráter contraditório que atravessa a educação, a partir da contradição da própria sociedade.
- () Defende que, para se compreenderem as diferentes modalidades de educação, exige-se a compreensão da escola. Em contrapartida, a escola pode ser compreendida independentemente das demais modalidades de educação.

Assinale a alternativa que apresenta a sequência correta, de cima para baixo.

- a) V – F – F – F.
- b) F – V – V – F.
- ▶ c) F – V – V – V.
- d) V – F – F – V.
- e) F – F – V – V.

35 - Quanto à relação brincadeira, cultura e conhecimento, é correto afirmar:

- a) A brincadeira é uma atividade natural dos seres humanos, que permite a apropriação de conhecimentos e da cultura.
- ▶ b) A brincadeira é um dos pilares das culturas da infância, compreendidas como significações e formas de ação social.
- c) As rotinas das brincadeiras partilhadas pelas crianças mantêm-se comuns nos diferentes contextos culturais.
- d) O jogo como recurso didático contém os requisitos básicos que configuram uma atividade como brincadeira.
- e) A brincadeira é própria da Educação Infantil, cabendo ao Ensino Fundamental o trabalho com a cultura e o conhecimento.

36 - Em relação ao Atendimento Educacional Especializado (AEE), é correto afirmar:

- a) A Educação Especial tem abrangência às etapas de Educação Infantil e Ensino Fundamental, tendo o AEE como parte integrante do processo educacional.
- b) O AEE é substitutivo às classes comuns e pode ser realizado em centro de Atendimento Educacional Especializado da rede pública ou de instituições comunitárias, confessionais ou filantrópicas sem fins lucrativos.
- c) Para atuação no AEE, o professor deve ter formação inicial que o habilite para o exercício da docência, não sendo necessária formação específica para a Educação Especial.
- d) Alunos com altas habilidades/superdotação não são considerados público-alvo da AEE, pois as atividades de enriquecimento curricular devem ser desenvolvidas pela escola regular.
- ▶ e) Em casos de Atendimento Educacional Especializado em ambiente hospitalar ou domiciliar, será ofertada aos alunos, pelo respectivo sistema de ensino, a Educação Especial de forma complementar ou suplementar.

37 - A gestão democrática está diretamente relacionada ao conceito de democracia e participação. Levando em consideração a afirmativa, é correto afirmar:

- a) A instituição de conselhos de escola, eleições para dirigentes escolares ou outros mecanismos tidos como de gestão democrática que atuam a partir da regra da maioria representam a essência da democracia.
- b) O poder deve estar ausente das relações, para que a democracia e, por conseguinte, a gestão democrática se efetivem, visto que se pautam na representatividade.
- c) A ampliação da democracia permitiu a superação da burocracia, o que consolidou o avanço da organização do poder na sociedade a partir da base social.
- ▶ d) Os sistemas de ensino definirão as normas da gestão democrática do ensino público na Educação Básica, de acordo com as suas peculiaridades e conforme princípios delimitados pela LDB 9.394/96.
- e) A democracia estética implica pensar as possibilidades reais de efetivação de práticas de participação e diálogo para a tomada de decisões.

38 - Vygotsky aborda a relação entre o pensamento e a linguagem. Considerando a perspectiva defendida pelo autor, é correto afirmar:

- a) As dimensões da linguagem (externa, fonética, interna e semântica) formam uma unidade homogênea e complexa.
- ▶ b) As palavras não se limitam a exprimir o pensamento: é por elas que este acede à existência.
- c) O discurso egocêntrico desenvolve-se segundo uma curva descendente, seguindo uma involução.
- d) O pensamento, assim como o discurso, é constituído por unidades separadas.
- e) O discurso interior é o aspecto interior do discurso externo.

39 - Sobre a relação entre educação e cuidado, é correto afirmar:

- a) O cuidado é uma dimensão específica da educação das crianças de 0 a 5 anos.
- b) Educar e cuidar são dimensões dissociáveis e exigem profissionais específicos para cada função.
- ▶ c) Na Educação Básica, educar e cuidar são conceitos referenciais e norteadores da proposta pedagógica.
- d) Na Educação Infantil, o cuidado cabe ao contexto da família, e o educar, ao contexto institucional.
- e) O cuidado é uma ação da creche, e a educação, da pré-escola.

40 - De acordo com as Diretrizes Curriculares Municipais de Araucária, é correto afirmar:

- ▶ a) O modelo de organização curricular adotado na Rede Municipal de Araucária é baseado numa perspectiva disciplinar e seriada.
- b) A perspectiva teórico-metodológica assumida pelo município é o construtivismo piagetiano, para o qual o centro do processo pedagógico é o aluno.
- c) A perspectiva crítica acredita ter a educação o poder de determinar as relações sociais, gozando de uma autonomia plena em relação à estrutura social.
- d) De acordo com os aspectos legais dispostos no Estatuto da Criança e do Adolescente, tem-se a definição de criança como sendo a pessoa até 18 anos de idade.
- e) A Proposta Pedagógica é um documento elaborado pela Secretaria Municipal de Educação, que explicita os fundamentos teórico-metodológicos, os objetivos, o tipo de organização e os meios de implementação e avaliação da escola.