



PREFEITURA MUNICIPAL DE MATINHOS ESTADO DO PARANÁ

Concurso Público – Edital 118/2018

Prova Objetiva – 17/03/2019



INSCRIÇÃO	TURMA	NOME DO CANDIDATO
-----------	-------	-------------------

ASSINO DECLARANDO QUE LI E COMPREENDI AS INSTRUÇÕES ABAIXO:	ORDEM
---	-------

203 – Fiscal de Obras e Posturas

INSTRUÇÕES

- Confira, acima, o seu número de inscrição, turma e nome. Assine no local indicado.
 - Aguarde autorização para abrir o caderno de prova. Antes de iniciar a resolução das questões, confira a numeração de todas as páginas.
 - A prova é composta de 40 questões objetivas.
 - Nesta prova, as questões objetivas são de múltipla escolha, com 5 alternativas cada uma, sempre na sequência **a, b, c, d, e**, das quais somente uma deve ser assinalada.
 - A interpretação das questões é parte do processo de avaliação, não sendo permitidas perguntas aos aplicadores de prova.
 - Ao receber o cartão-resposta, examine-o e verifique se o nome impresso nele corresponde ao seu. Caso haja qualquer irregularidade, comunique-a imediatamente ao aplicador de prova.
 - O cartão-resposta deverá ser preenchido com caneta esferográfica preta, tendo-se o cuidado de não ultrapassar o limite do espaço para cada marcação.
 - A duração da prova é de 4 horas. Esse tempo inclui a resolução das questões e a transcrição das respostas para o cartão-resposta.
 - Não será permitido à candidata e ao candidato:
 - Manter em seu poder relógios e aparelhos eletrônicos ou qualquer objeto identificável pelo detector de metais. Tais aparelhos deverão ser desligados e colocados OBRIGATORIAMENTE dentro do saco plástico, que deverá ser acomodado embaixo da carteira ou no chão. É vedado também o porte de armas.
 - Usar bonés, gorros, chapéus ou quaisquer outros acessórios que cubram as orelhas.
 - Usar fone ou qualquer outro dispositivo no ouvido. O uso de tais dispositivos somente será permitido quando indicado para o atendimento especial.
 - Levar líquidos, exceto se a garrafa for transparente e sem rótulo.
 - Comunicar-se com outro candidato ou candidata, usar calculadora e dispositivos similares, livros, anotações, régua de cálculo, impressos ou qualquer outro material de consulta.
 - Portar carteira de documentos/dinheiro ou similares.
 - Usar óculos escuros, ressalvados os de grau, quando expressamente por recomendação médica, devendo o candidato, então, respeitar o subitem 6.6.5 do Edital.
 - Emprestar materiais para realização das provas.
- Caso alguma dessas exigências seja descumprida, a candidata/o candidato será excluída(o) do processo.**
- Ao concluir a prova, permaneça em seu lugar e comunique ao aplicador de prova. Aguarde autorização para entregar o caderno de prova e o cartão-resposta.
 - Se desejar, anote as respostas no quadro abaixo, recorte na linha indicada e leve-o consigo.

Língua Portuguesa

Raciocínio Lógico

Informática

Conhecimentos Específicos

DURAÇÃO DESTA PROVA: 4 horas.

RESPOSTAS							
01 -	06 -	11 -	16 -	21 -	26 -	31 -	36 -
02 -	07 -	12 -	17 -	22 -	27 -	32 -	37 -
03 -	08 -	13 -	18 -	23 -	28 -	33 -	38 -
04 -	09 -	14 -	19 -	24 -	29 -	34 -	39 -
05 -	10 -	15 -	20 -	25 -	30 -	35 -	40 -

LÍNGUA PORTUGUESA

O texto a seguir é referência para as questões 01 a 04.

Iguais diante da lei?

Hélio Schwartzman

O STF deve retomar hoje o julgamento da criminalização da homofobia. As proteções que a legislação dá a negros e outros grupos mencionados na lei nº 7.716 devem ser estendidas a homossexuais?

Conceitualmente, não vejo espaço para dúvidas. Se é errado discriminar alguém pela cor da pele, religião, nacionalidade ou grupo étnico, também o é fazê-lo em virtude de sua orientação sexual. Não tenho dificuldade em aceitar a ampliação de direitos pela via jurisprudencial.

Não poderia ter sido mais acertada a decisão do Supremo que equiparou os direitos de casais homossexuais aos de heterossexuais, abrindo caminho para o casamento gay.

O problema de fundo deste julgamento é que não estamos aqui tratando de direitos civis, mas de legislação criminal. Como a privação da liberdade é um dos castigos mais graves que o Estado pode impor, a maioria dos doutrinadores entende que tipos penais jamais podem ser criados por tribunais, exigindo sempre um ato do Legislativo. É um argumento forte. Estou curioso para ver como os ministros resolverão essa quadratura do círculo.

Isso dito, devo afirmar que compreendo, mas não gosto da estratégia do movimento gay e de outros grupos de esquerda de levar a legislação penal para o terreno identitário. Não é por falta de tipos penais que os assassinatos de gays, por exemplo, não são contidos.

No Brasil, matar um homossexual só pelo fato de ele ser homossexual configura homicídio doloso qualificado (motivo fútil), com pena de até 30 anos de reclusão, a maior admitida no país. Se a repressão à violência contra gays é tibia, o problema não está na ausência de lei, mas em outras engrenagens do sistema, como polícia, MP e juízes.

Ao advogar por legislações específicas para grupos, em vez de formulações universais, a esquerda erode a mensagem mais esquerdista de todos os tempos, que é a de que somos todos seres humanos, iguais diante da lei.

(Disponível em: <https://www1.folha.uol.com.br/colunas/helioschwartzman/2019/02/iguais-diante-da-lei.shtml>)

01 - Com base no texto, considere as seguintes afirmativas:

1. A luta pela criminalização da homofobia contradiz o movimento esquerdista de igualdade perante a lei.
2. Apesar de não ser um tipo penal, o assassinato de gays é punido com a maior pena de reclusão do país.
3. Enquanto os tribunais não puderem legislar sobre a criminalização da homofobia, a discriminação persistirá.

Está/Estão de acordo com o texto a(s) afirmativa(s):

- a) 1 apenas.
- b) 2 apenas.
- ▶ c) 1 e 2 apenas.
- d) 2 e 3 apenas.
- e) 1, 2 e 3.

02 - Em relação às ideias presentes no texto, é correto afirmar que o autor pretende:

- a) incitar um debate sobre a criminalização da homofobia.
- ▶ b) questionar a estratégia adotada pelo movimento gay e outros movimentos para reprimir a violência contra gays.
- c) incentivar o apoio à extensão dos direitos mencionados na lei nº 7.716 aos homossexuais.
- d) pôr em xeque a capacidade dos ministros do supremo de analisarem esse tipo de proposição.
- e) denunciar a responsabilidade do Ministério Público e dos juízes em relação à impunidade dos crimes contra os homossexuais.

03 - No trecho “Se a repressão à violência contra gays é tibia, o problema não está na ausência de lei, mas em outras engrenagens do sistema, como polícia, MP e juízes”, a expressão sublinhada pode ser substituída por:

- ▶ a) fraca.
- b) dura.
- c) violenta.
- d) constante.
- e) maléfica.

04 - Na quarta linha do texto, o termo sublinhado “o” (em “também o é”) refere-se a:

- a) grupo étnico.
- ▶ b) errado.
- c) alguém.
- d) espaço para dúvidas.
- e) Conceitualmente.

05 - Assinale a alternativa corretamente pontuada.

- a) Nacionalismo, em doses baixas pode ajudar, mas em doses altas, torna-se produto tóxico.
- b) Nacionalismo, em doses baixas pode ajudar mas, em doses altas, torna-se produto tóxico.
- c) Nacionalismo em doses baixas, pode ajudar, mas, em doses altas torna-se produto tóxico.
- ▶ d) Nacionalismo, em doses baixas, pode ajudar, mas, em doses altas, torna-se produto tóxico.
- e) Nacionalismo em doses baixas, pode ajudar mas, em doses altas, torna-se produto tóxico.

06 - Considere o seguinte trecho:

Um método sem aval científico que promete a cura de doenças oculares, como glaucoma e catarata, sem cirurgias ou tratamentos tradicionais, tem levado pacientes a retardar a busca por terapias mais efetivas, piorando problemas de visão.

A expressão sublinhada faz referência a:

- ▶ a) um método sem aval científico.
- b) doenças oculares.
- c) glaucoma.
- d) cataratas.
- e) tratamentos tradicionais.

07 - O texto a seguir contém trechos de uma entrevista dada pelo astronauta Scott Kelly para a Revista *Galileu*. Numere a coluna da direita, relacionando as respostas com as respectivas perguntas.

- | | |
|--|---|
| <p>1. Antes de se aposentar, em 2016, aos 52 anos, você passou 520 dias no espaço. Como se sente a respeito de sua carreira?</p> <p>2. Em <i>Endurance</i> você conta que, no início da exploração espacial, os astronautas eram escolhidos pela habilidade de pilotar espaçonaves, mas hoje há qualidades mais valorizadas. Qual seria “a coisa certa” para a primeira tripulação em Marte?</p> <p>3. Há problemas em aberto com relação aos voos espaciais que precisamos resolver antes de embarcarmos em jornadas interplanetárias. Quais são os fundamentais?</p> <p>4. Esse interesse renovado pela Lua deu início a conversas entre a Nasa, a Roscosmos e outras agências visando a construção de uma “EEI” na órbita da Lua na década de 2020. Como seria estar a bordo de uma estação dessas?</p> | <p>() Você não poderia voltar tão rápido em caso de uma emergência. Além disso, os atrasos de comunicação não seriam tão longos, então ainda seria possível manter uma conversa pelo telefone. A estação poderia ser reabastecida com suprimentos, mas seria mais complicado. Ir até a Lua não é como ir até a órbita terrestre baixa.</p> <p>() Pessoas que sejam capazes de trabalhar bem juntas, como um time, que sejam tecnicamente competentes, confiáveis. Pessoas que tenham muitas outras habilidades além de pilotar.</p> <p>() O que vai nos impedir de ir a Marte ou desacelerar nossa potencial jornada é o financiamento para isso. Será caro, vamos precisar de pessoas no governo que reconheçam o valor da ciência, da pesquisa e da descoberta. E creio que este seja o maior desafio que temos: não a ciência dos foguetes, mas a ciência política.</p> <p>() Privilegiado por ter voado ao espaço, por ter tido a oportunidade de fazer isso quatro vezes. Tive uma experiência bem diversificada, como piloto em uma missão de reparo do telescópio espacial Hubble e, mais tarde, ao voar como comandante do ônibus espacial até a estação.</p> |
|--|---|

Assinale a alternativa que apresenta a sequência correta, de cima para baixo.

- a) 1 – 3 – 2 – 4.
- b) 4 – 3 – 2 – 1.
- c) 3 – 2 – 1 – 4.
- d) 1 – 4 – 3 – 2.
- ▶ e) 4 – 2 – 3 – 1.

08 - No trecho “Elas diferem não só moral e juridicamente, mas também no plano neurobiológico”, os termos sublinhados estabelecem uma relação de:

- a) comparação.
- b) proporcionalidade.
- c) oposição.
- ▶ d) adição.
- e) comparação.

09 - Considere o seguinte trecho:

A popularização do modelo de educação _____ distância (EAD) tornou-a praticamente um sinônimo de acesso _____ tecnologia, refletindo os tempos atuais de amplo acesso _____ internet. No entanto, esse modelo já é secular. Data de meados de 1904 o primeiro curso profissionalizante por correspondência no Brasil. Após essa fase, tornaram-se comuns os cursos por rádio e televisão. O advento da internet – considerada a principal ferramenta do EAD – e a popularização dos microcomputadores pessoais impulsionaram _____ modalidade.

(Disponível em: <http://www.amanha.com.br/posts/view/7188/uninter-democratizando-o-conhecimento>)

Assinale a alternativa que preenche corretamente as lacunas acima, na ordem em que aparecem no texto.

- a) à – à – à – à.
- b) à – à – à – a.
- c) à – a – à – à.
- d) a – a – a – a.
- ▶ e) a – à – à – a.

10 - Considere o seguinte trecho:

Lúpus é uma doença inflamatória de origem autoimune, _____ os anticorpos afetam órgãos saudáveis do organismo, como pele, rins, cérebro e articulações, entre outros.

Assinale a alternativa que preenche corretamente a lacuna acima:

- a) onde.
- b) cujos.
- ▶ c) na qual.
- d) no que.
- e) quando.

RACIOCÍNIO LÓGICO

11 - Num estojo escolar, há 10 lápis de cor (4 vermelhos, 3 verdes, 2 amarelos e 1 azul), todos com o mesmo formato e tamanho. De olhos fechados, qual é o número mínimo de lápis que devemos retirar desse estojo para ter certeza de que dois deles são vermelhos e um é verde?

- a) 4.
- b) 5.
- c) 6.
- d) 7.
- ▶ e) 8.

12 - Uma produtora de eventos colocará à venda 2.400 ingressos para um festival de música ao valor de R\$ 120,00 cada. Qual será o menor valor arrecadado com a venda de todos ingressos, sabendo que até 40% desses ingressos podem ser vendidos com 50% de desconto (meia-entrada para estudantes, idosos e outras categorias)?

- a) R\$ 144.000,00.
- b) R\$ 201.600,00.
- c) R\$ 216.000,00.
- ▶ d) R\$ 230.400,00.
- e) R\$ 288.000,00.

13 - Nas últimas eleições realizadas em 2018, o município de Matinhos contava com 26.390 eleitores cadastrados no TRE. Assumindo que 54% dos eleitores são do sexo feminino e que 51% dessas eleitoras têm idade entre 16 e 44 anos, qual dos números abaixo mais se aproxima do número de eleitoras do município de Matinhos com idade igual ou superior a 45 anos?

- a) 6191.
- b) 6597.
- ▶ c) 6983.
- d) 7268.
- e) 7553.

14 - Sabendo apenas que a distância entre os pontos A e B é de 8 cm e que a distância entre os pontos B e C é de 6 cm, qual dos valores abaixo NÃO pode corresponder a distância entre os pontos A e C?

- a) 3.
- b) 6.
- c) 9.
- d) 12.
- ▶ e) 15.

15 - Qual é o próximo termo da sequência numérica -3, 7, -13, 27, -53, 107, ___?

- a) -153.
- b) -173.
- c) -193.
- ▶ d) -213.
- e) -233.

16 - Admita que as seguintes proposições são verdadeiras:

- Alguns candidatos estudaram raciocínio lógico para o último concurso.
- Todos os aprovados no último concurso estudaram raciocínio lógico.
- Ana não foi aprovada no último concurso.

A partir dessas premissas, pode-se inferir que:

- ▶ a) Alguns candidatos estudaram raciocínio lógico e foram aprovados.
- b) Alguns candidatos não estudaram raciocínio lógico.
- c) Todos os candidatos estudaram raciocínio lógico.
- d) Ana não estudou raciocínio lógico.
- e) Ana estudou raciocínio lógico.

17 - Assinale a alternativa que apresenta a **NEGAÇÃO** lógica da proposição: “Os 50 primeiros serão atendidos hoje e os demais devem retornar amanhã”.

- ▶ a) Os 50 primeiros não serão atendidos hoje ou os demais não devem retornar amanhã.
- b) Os 50 primeiros não serão atendidos hoje e os demais não devem retornar amanhã.
- c) Os 50 primeiros serão atendidos hoje ou os demais devem retornar amanhã.
- d) Os 50 primeiros não serão atendidos hoje e os demais devem retornar amanhã.
- e) Os 50 primeiros serão atendidos hoje ou os demais não devem retornar amanhã.

18 - Qual das proposições abaixo é logicamente equivalente à proposição: “Se precisamos ser fortes então vamos nos preparar melhor”?

- a) Se vamos nos preparar melhor então precisamos ser fortes.
- b) Se não vamos nos preparar melhor então precisamos ser fortes.
- ▶ c) Se não vamos nos preparar melhor então não precisamos ser fortes.
- d) Se não precisamos ser fortes então não vamos nos preparar melhor.
- e) Se precisamos ser fortes então não vamos nos preparar melhor.

19 - Numa pesquisa com os turistas nas principais praias de Matinhos, constatou-se que 74% das pessoas entrevistadas já tinham visitado a cidade anteriormente, e 273 pessoas estavam na cidade pela primeira vez. Quantas pessoas foram entrevistadas nessa pesquisa?

- a) 970.
- ▶ b) 1050.
- c) 1173.
- d) 1274.
- e) 1450.

20 - Considere a seguinte sequência de tabuleiros:

a	e	i	
	o	u	

	a		e
		o	
		u	i

		a	
	u	o	e
	i		

			a
i	u		
	o		
		e	

Qual dos seguintes tabuleiros completa a sequência lógica acima?

		i	
	u		a
	o		
e			

		i	
	o	u	a
e			

i			a
	o		
	u		
e			


			i
		o	a
		u	
e			

		a	i
	o	u	
			e
	i		

INFORMÁTICA

21 - Assinale a alternativa que apresenta a menor capacidade em Bytes para armazenar 500 MB.

- a) 1 EB.
- ▶ b) 1 GB.
- c) 1 KB.
- d) 1 PB.
- e) 1 TB.

22 - Sobre Sistema Operacional Windows 7, versão Português BR, estando na área de trabalho, qual atalho pode ser utilizado para abrir o Windows Explorer, usando a tecla do logotipo do Windows ?

- a) +TAB.
- b) +A.
- c) +D.
- ▶ d) +E.
- e) +L.

23 - Qual a funcionalidade usada para criar o layout ou alterações de formatação em uma parte de um documento, no Word 2007 versão Pt BR?

- a) Hiperlink.
- b) Referência Cruzada.
- c) Quebra automática de texto.
- d) Quebra de página.
- ▶ e) Quebra de seção.

24 - Sobre Word 2007 versão Pt BR, assinale a alternativa que apresenta a ação de Realçar, localizada em página inicial, grupo Fonte.

- a) texto
- b) ~~texto~~
- c) texto
- d) **texto**
- ▶ e) **texto**

25 - O índice de Massa Corporal (IMC) é utilizado na avaliação do estado nutricional de uma pessoa, levando-se em consideração, entre outros fatores, o peso (kg) e a altura (m) do indivíduo, sendo calculado pela fórmula:

$$\text{IMC} = \frac{\text{Peso}}{(\text{Altura})^2}$$

Usando o MS Excel 2007 versão PT BR, a fórmula correta para o cálculo do IMC, na qual o valor do Peso está na célula B2 e o da Altura na célula B3, é:

- a) =B2|(B3&2)
- b) =B2..(B3xB3)
- ▶ c) =B2/B3^2
- d) =B2%B3@2
- e) =B2:B3xB3

26 - Com relação ao MS Excel 2007 versão PT BR, assinale a alternativa que apresenta a fórmula sintaticamente correta.

- ▶ a) =Plan1!A3*Plan2!A4
- b) =Plan1%A3*Plan2%A4
- c) =A3.Plan1*A4.Plan2
- d) =A3!Plan1*A4!Plan2
- e) =Plan1(A3)*Plan2(A4)

27 - Qual funcionalidade, utilizando-se o Internet Explorer 11 com Buscador BING, impede que imagens, textos e vídeos para adultos sejam exibidos nos resultados de pesquisa?

- a) SmartScreen.
- b) Navegação InPrivate.
- c) Cookies.
- ▶ d) Pesquisa Segura.
- e) Modo Protegido Avançado.

28 - Sobre tipos de Grupo do Google “Fórum de Perguntas e Respostas”, nas configurações predefinidas, considere as seguintes afirmativas:

1. Os tópicos podem ser marcados como resolvidos ou classificados pelos usuários.
2. As pessoas devem postar usando a interface da Web, mas ainda podem receber atualizações por e-mail.
3. Os tópicos podem ser atribuídos a outros membros e tratados como tarefas que podem ser resolvidas ou reatribuídas.

Assinale a alternativa correta.

- a) Somente a afirmativa 1 é verdadeira.
- ▶ b) Somente as afirmativas 1 e 2 são verdadeiras.
- c) Somente a afirmativa 3 é verdadeira.
- d) Somente as afirmativas 2 e 3 são verdadeiras.
- e) As afirmativas 1, 2 e 3 são verdadeiras.

29 - Ao acessar o *Internet Banking* percebeu-se que o *site* não estava utilizando conexão segura. O suporte verificou que o serviço de DNS do computador estava redirecionando, de forma transparente, para uma página falsa. Esse tipo de ocorrência é chamada de:

- a) sequestro de máquina.
- b) ransomware.
- ▶ c) pharming.
- d) vírus.
- e) fraude de antecipação de recursos.

30 - Sobre políticas específicas de segurança, o Termo de Uso, ou Termo de Serviço, é um documento que define as regras de uso dos recursos computacionais, os direitos e as responsabilidades de quem os utiliza e as situações que são consideradas abusivas. Esse conceito refere-se à política:

- ▶ a) de uso aceitável.
- b) de confidencialidade.
- c) de privacidade.
- d) de Integridade.
- e) de não repúdio.

CONHECIMENTOS ESPECÍFICOS

31 - A Prefeitura Municipal de Matinhos pretende construir um empreendimento de habitação de interesse social composto por lotes urbanizados e edifícios de apartamentos, totalizando 400 residências destinadas ao atendimento de famílias de baixa renda do município. Sobre esse empreendimento, é correto afirmar:

- a) Deverá ser feita reserva de ao menos 40 residências para pessoas com deficiência, que terão prioridade na aquisição do imóvel desde que para moradia própria.
- ▶ b) Os edifícios de apartamentos deverão ter suas áreas de uso comum e os apartamentos do térreo acessíveis, podendo ser feitas adaptações razoáveis nos demais pavimentos.
- c) O loteamento deverá contar com vias de circulação pavimentadas e rede de energia elétrica, mas é facultativa a construção de rede de escoamento de águas pluviais e rede coletora de esgoto.
- d) É permitido à Prefeitura repassar aos moradores os custos dos equipamentos específicos de residências acessíveis, tais como barras de apoio, louças e metais sanitários especiais.
- e) O terreno onde será implantado o loteamento não poderá ser alagadiço ou sujeito à inundação, e deverá ter declividade inferior a 20%.

32 - A Lei Municipal nº 1.068/2006 (e suas alterações) dispõe sobre o zoneamento, ocupação e uso do solo do município de Matinhos. Com relação ao assunto, considere os seguintes parâmetros construtivos:

1. ZB2 – Máximo de 10 pavimentos.
2. ZR4 – Máximo de 8 pavimentos.
3. ZUR – Não é permitido nenhum tipo de ocupação.
4. ZC – Máximo de 3 pavimentos.

Estão corretos os parâmetros:

- ▶ a) 1 e 4 apenas.
- b) 2 e 3 apenas.
- c) 2 e 4 apenas.
- d) 1, 2 e 3 apenas.
- e) 1, 3 e 4 apenas.

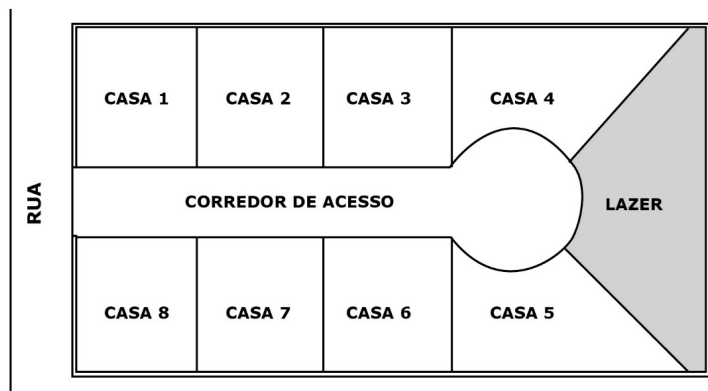
33 - A Lei Municipal nº 1.068/2006 (e suas alterações) classifica os usos e atividades quanto à sua adequação a cada zona. É correto afirmar que os usos e atividades se dividem em:

- a) permitidos, tolerados e indesejados.
- b) autorizados, autorizáveis e proibidos.
- c) recomendados, permissíveis e inadmitidos.
- ▶ d) permitidos, permissíveis e proibidos.
- e) desejados, aceitáveis e vedados.

34 - Um empreendedor pretende construir um conjunto de oito residências em série transversais ao alinhamento predial, em um bairro residencial de Matinhos, conforme o croqui ao lado:

Em face do código de obras do município, é correto afirmar:

- a) A área de lazer deverá ser equivalente a no mínimo 50% da área média das unidades residenciais.
- b) O balão de retorno é opcional, devido ao pequeno número de casas.
- c) A testada mínima de cada unidade deverá ser de 4 metros.
- d) O condomínio poderá ter muro maciço de alvenaria de 2,50 metros de altura sobre o alinhamento predial.
- ▶ e) A largura mínima do corredor de acesso deve ser de 6 metros.



****35 - Em seu trabalho como Fiscal de Obras e Posturas, você se depara com a seguinte situação: uma casa está sendo construída a 4 metros do alinhamento predial em uma zona onde são exigidos 5 metros de recuo frontal. Constatada a infração ao código de obras e sabendo que a obra não apresenta risco de desabamento, o proprietário está sujeito a:**

- a) multa, somente.
- b) multa e interdição.
- c) embargo e multa.
- d) embargo e interdição.
- ▶ e) embargo, multa e demolição.

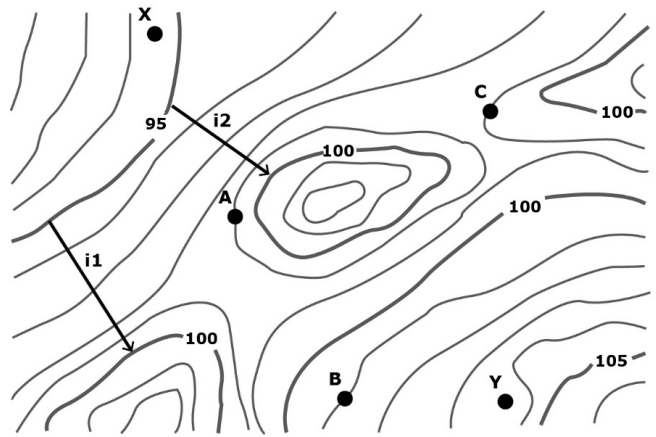
****Questão com resposta alterada.**

36 - Os levantamentos topográficos costumam ser apresentados na forma de plantas em que as feições do terreno são representadas como curvas de nível. A esse respeito, considere as seguintes afirmativas:

1. Os pontos A, B e C possuem a mesma cota.
2. A declividade do segmento *i1* é inferior à do segmento *i2*.
3. O croqui apresenta curvas de nível mestras a cada 5 metros e curvas intermediárias de metro em metro.
4. O perfil S1 representa corretamente a seção entre os pontos X e Y.

Assinale a alternativa correta.

- a) Somente as afirmativas 1 e 2 são verdadeiras.
- b) Somente as afirmativas 2 e 3 são verdadeiras.
- c) Somente as afirmativas 3 e 4 são verdadeiras.
- d) Somente as afirmativas 1, 3 e 4 são verdadeiras.
- e) As afirmativas 1, 2, 3 e 4 são verdadeiras.



37 - A respeito da Lei federal nº 8.987/1995, que trata sobre o regime de concessões e permissões, assinale a afirmativa correta.

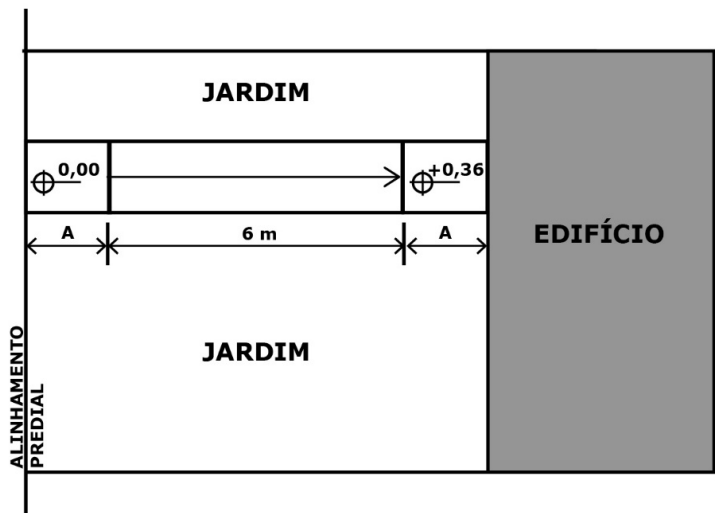
- a) As permissões de serviços como comércio ambulante e transporte por táxi têm caráter precário.
- b) Tanto pessoas jurídicas quanto físicas podem obter concessões de serviços públicos.
- c) A tarifa do serviço público concedido será de livre revisão pelo concessionário.
- d) É dispensada a licitação no caso das concessões que não envolvem a construção de obra pública.
- e) Após extinta a concessão, todos os bens e instalações passam à propriedade do concessionário.

38 - Os projetos de edificações devem adotar uma linguagem gráfica padronizada. Sobre as normas brasileiras de desenho técnico, assinale a alternativa correta.

- a) Os projetos devem ser apresentados em folhas da série A, tais como A0 (841 x 594 mm) e A1 (1189 x 841 mm).
- b) A legenda ou carimbo deve ser colocado no canto superior direito da prancha.
- c) As linhas de cota devem ser contínuas, com espessura de 0,2 mm, e estar situadas fora do desenho.
- d) Os eixos devem ser indicados com linha do tipo traço e dois pontos.
- e) A margem esquerda da prancha deve ter 20 mm, enquanto a direita deve ser proporcional ao tamanho do papel.

39 - O projeto de reforma de um prédio de apartamentos em Matinhos prevê a construção de uma rampa para acesso à portaria, conforme o croqui ao lado. Com base na figura, assinale a alternativa correta.

- a) O comprimento dos patamares (A) deve ser de no mínimo 1,00 m.
- b) A rampa deve ter corrimão duplo nas alturas de 0,90 e 1,05 m.
- c) A NBR 9050 recomenda largura de 1,20 m para essa rampa, admitido o mínimo de 0,80 m.
- d) É dispensado o uso de sinalização tátil de alerta no início e fim da rampa.
- e) A rampa possui inclinação de 6% e dispensa patamar intermediário.



40 - Sobre o Estatuto das Cidades (Lei federal nº 10.257/2001) e suas interfaces com a legislação municipal, assinale a alternativa correta.

- a) A usucapião poderá ser concedida àquele que ocupar imóvel urbano de até 300 metros quadrados, ininterruptamente e sem oposição por 5 anos, desde que não seja proprietário de outro imóvel urbano ou rural.
- b) A política urbana deve ter como diretrizes a garantia do direito a cidades sustentáveis, a gestão técnica do território, a proteção da propriedade privada produtiva e a separação entre as atividades urbanas e rurais.
- c) Ao vender imóvel sujeito ao direito de preempção, o proprietário deve notificar sua intenção ao Município, que terá até 90 dias para manifestar interesse em comprá-lo.
- ▶ d) O instituto da outorga onerosa do direito de construir, previsto no Estatuto das Cidades, está incorporado à legislação urbanística de Matinhos, sendo permitido na ZEIS e na ZC, e proibido na ZCA e ZRM.
- e) Ainda que se permita o acréscimo de potencial construtivo por meio de outorga onerosa e outros bônus, o coeficiente de aproveitamento total no Município de Matinhos é limitado a 4,50.